

ZADANIE 38


1. Kasa wyświetla koszt zakupów.
2. Cena dwóch produktów jest podana.
3. Ile kosztuje trzeci produkt?



2 zł



2 zł



?




?



$$\square \square \square = \square$$

$$\square \square \square = \square$$


5 zł



2 zł



?



?



$$\square \square \square = \square$$

$$\square \square \square = \square$$