












Pieniądze

Zadanie 1.

Rozwiąż zadania.

Kasia, Zuza, Tomek i Antek robili zakupy. Każdy miał banknot o nominale 10 zł. Ile reszty otrzymało każde dziecko? Wpisz działania w tabelkę i oblicz.

			
kredki – 5 zł	jogurt – 2 zł	książka – 6 zł	
			
sok – 1 zł	długopis – 3 zł	cyrkiel – 4 zł	

Kasia		$10 \text{ zł} - 2 \text{ zł} - 1 \text{ zł} =$
Zuza		
Tomek		
Antek		

Kasia otrzymała zł reszty.

Zuza otrzymała zł reszty.

Tomek otrzymał zł reszty.

Antek otrzymał zł reszty.

